

FACULDADE DE ARQUITETURA E URBANISMO
TESTE DE HABILIDADE ESPECÍFICA

QUESTÃO 1

Parte1: Identifique os elementos em destaque nas fotos abaixo, pelo nome e pela cidade onde se encontram.



1. Nome: _____

Cidade: _____



1. Nome: _____

Cidade: _____



1. Nome: _____

Cidade: _____

Parte2: Retire da volumetria de cada um dos elementos identificados, uma figura geométrica simples e faça uma composição a partir dessas figuras geométricas.

QUESTÃO 2

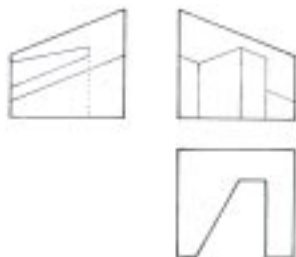
Observe sua mão desenhando sobre uma folha de papel.

Represente o que está vendo, incluindo no desenho, ao menos uma parte da mesa.

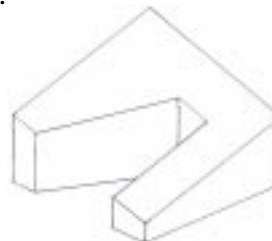
QUESTÃO 3

Dadas 3 vistas, sendo uma superior, uma de frente e uma lateral, represente o volume do conjunto proposto ao lado em perspectiva, conforme o exemplo dado abaixo.

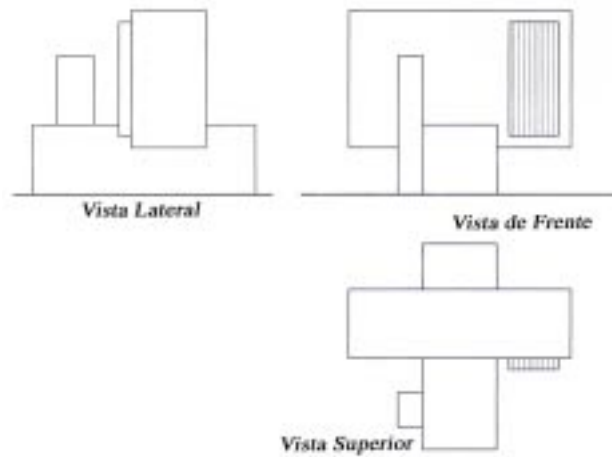
Exemplo:



Solução:



Conjunto Proposto:



QUESTÃO 4

Imagine-se em um ponto de ônibus com cobertura de proteção, com pelo menos uma outra pessoa, quando um coletivo se aproxima do ponto.

Represente a cena descrita acima, observada do seu ponto de vista.

QUESTÃO 5

Observe esta perspectiva do Solário da Unidade 1 do Condomínio situado em Sea Ranch, Califórnia, projetado em 1966 por MLTW.

Suponha que você se encontra na posição da pessoa que está sentada.

Complemente o desenho de acordo com sua imaginação.



Fonte: CHING, Francis D.K. Ching Arquitetura, forma, espaço em ordem
São Paulo: Martins Fontes, 1998, p.17